

Nombre: _____

REPASO CONOCIMIENTO DEL MEDIO. Unidad 7.

1. ¿En qué forma encontramos el agua? Une:

Nubes nieve ríos mares aire granizo

SÓLIDA LÍQUIDA VAPOR

2. Completa la siguiente frase:

Al movimiento del agua en la naturaleza se le llama ciclo del _____.

El _____ calienta el agua de la Tierra y se forma _____ de agua.

Las nubes están formadas por _____ de agua muy pequeñas.

El agua de las nubes puede caer en forma de _____, granizo o _____.

3. ¿Qué le ocurre a un cubito de hielo cuando se calienta? Explícalo con tus palabras.

4. De la siguiente lista rodea de verde los nombres que tengan relación con el agua:

Mediterráneo llanura granizo lago río

nube cordillera Atlántico Pacífico roca

5. ¿Dónde va el agua de los charcos cuando se secan?

6. Marca con una X qué fenómenos se producen en la atmósfera:

- Lluvia Tormentas Olas Nieve
 Rayos Terremoto Viento Granizo

7. Completa la siguiente frase:

El aire que rodea la Tierra se llama _____. En ella se encuentra el _____ que los seres vivos necesitamos para respirar.

8. Escribe los nombres donde corresponda:


Piedra coches árbol fábrica incendio mar pájaro
calefacción.

No contaminan el aire	Contaminan en aire

9. Investiga y rodea de azul los nombres de vientos:

Siroco Índico Levante Poniente Huracán Veleta

10. Dibuja un veleta y explica para qué sirve:



11. Marca con una X lo que forma el suelo:

Piedras

Minerales

Nubes

Agua

Aire

Tormentas

12. Une cada descripción con su roca o mineral:

Es una roca de aspecto rugoso formada por granos negros y blancos



AZUFRE

Es un mineral con forma de prisma y brilla como los metales



PIRITA

Es un mineral con forma irregular y de color amarillo



GRANITO

13. Copia con buena letra:

Los suelos en los que viven muchas plantas y animales, y que tienen hojas secas, ramitas... se llaman suelos fértiles.


14. Completa la frase con estas palabras:

Día rotación noche 24 horas


La Tierra da una vuelta sobre sí misma cada _____, produciendo el _____ y la _____. Este movimiento se llama _____.

15. Haz dos dibujos, uno sobre cosas que hagas de día y otro sobre cosas que hagas de noche:

De día



De noche

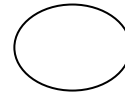
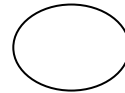
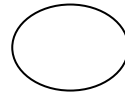
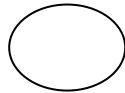
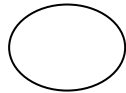
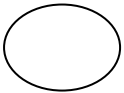


16. Completa esta frase:

Al movimiento de la Tierra alrededor del Sol se le llama _____ y produce las _____ del año.

17. Ordena las siguientes palabras:

Atardecer amanecer mediodía mañana noche atardecer



18. Escribe Verdadero o Falso en los casos en que se protege la Tierra:

- Dejo el grifo abierto mientras me enjabono _____
- Cierro el grifo mientras me enjabono _____
- No Reciclo _____
- Reciclo _____
- Apago la luz si no hay nadie _____
- Nunca apago la luz _____

19. Tacha el material que no produce sombra:

Piedra

Aire

Bicicleta

Persona

Cristal

20. Completa las siguientes frases con las palabras: Chorros, caliente y vapor.

En los géiseres salen del suelo grandes _____ de agua
_____ y _____.