

Nombre: _____

CONOCIMIENTO DEL MEDIO. Unidad 2.

1. Une cada hueso con la parte del cuerpo en la que se encuentra:

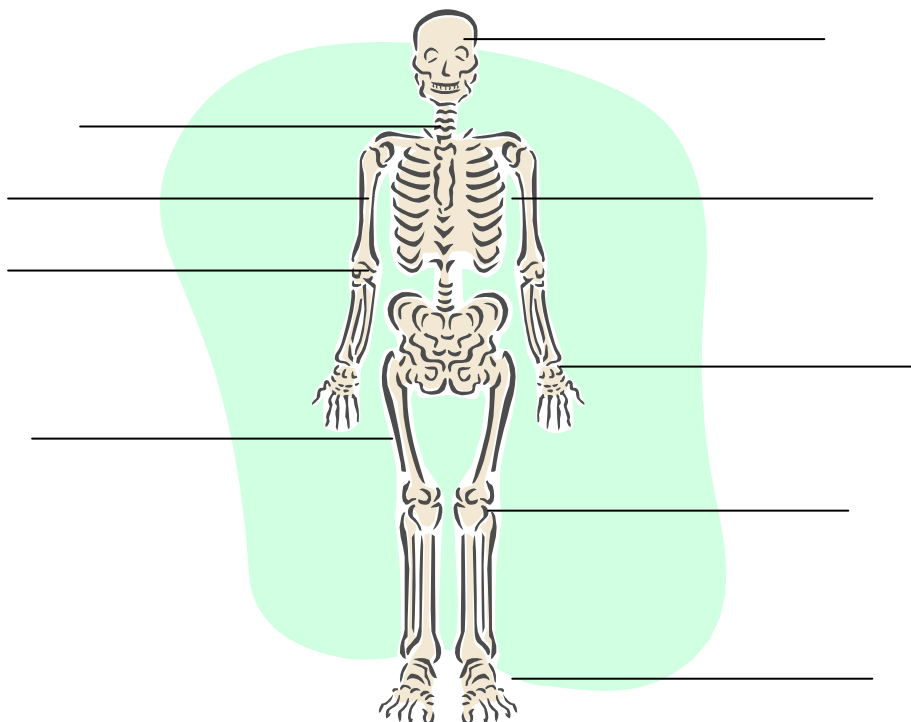
- Costillas
- Húmero
- Cráneo
- Vértebras
- Fémur
- Cabeza
- Tronco
- Extremidades

2. Completa la siguiente frase: Los animales que tienen esqueleto interno se llaman _____

3. Algunos huesos protegen órganos de nuestro cuerpo. ¿Qué parte del cuerpo protegen las costillas? Rodea.

Rodillas - ojos - boca - pulmones - intestino.

4. Escribe el nombre de los huesos y articulaciones señaladas en el dibujo:



5. Completa la siguiente frase con estas palabras:

Cuello - vértebras - espalda - articulaciones

La columna vertebral está formada por _____ en las que hay _____ que nos permiten mover la _____ y el _____.

6. Completa la tabla con estos nombres:

Codo -tobillo -fémur -hombro -húmero - vértebras –muñeca – cráneo

Huesos	Articulaciones

7. Une cada músculo con la parte del cuerpo donde se encuentra:

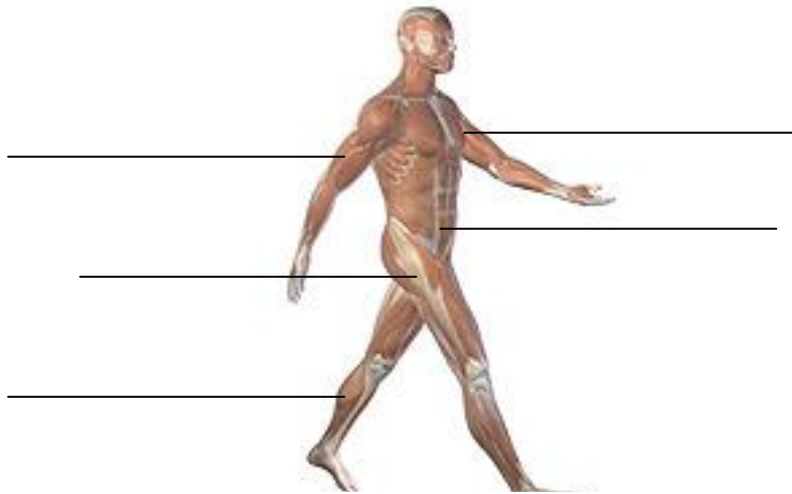
- Bíceps
- Pectoral
- Gemelo
- Abdominal
- Tronco
- Extremidades

8. ¿Cómo se mantienen los músculos sanos? Explícalo.

9. Completa la siguiente frase:

El corazón late para que la _____ se mueva por todo nuestro _____.


10. Escribe los nombres de los músculos señalados:




11. Ordena estas actividades y dibújalas empezando por aquella es la que el corazón late más despacio:

Pasear - Correr - Dormir


1



2



3



12. Une para formar frases correctas:

- Cuando corro
- Cuando doy un beso
- Cuando escribo
- Utilizo los músculos de la cara
- Utilizo los músculos de la mano
- Utilizo los músculos de las piernas