

Nombre: _____

REPASO MATEMÁTICAS. Unidad 1.

1. Lee el siguiente poema y rodea de verde cada expresión oral que aparezca

Orden, señores, orden.
¿Quién va primero?
Yo soy segundo
Y usted, tercero.
Aquí va cuarto,
Yo me aparto.
Ya viene quinto,
Luego entra sexto,
Y en un periquete
Está aquí el resto:
Séptima y octavo,
La pava y el pavo.
Con ellos acabo:
Noveno y décimo.

Gloria Almendáriz.

2. Escribe las expresiones ordinales del primero al quinto:

- 1º , primero;

3. Completa con los signos: <, =, >.

12 ○ 12 + 4

25 ○ 25 - 10

35 ○ 34 + 2

20 ○ 18 + 2

45 ○ 40 + 3

26 ○ 26 - 2

3. Completa la siguiente tabla con los números del 0 al 49:

0	1	2							
				14					
							27		
									49

4. Observa los ejemplos y completa la tabla

1 D 3 U = $10 + 3 = 13$	2 D 6 U = $20 + 6 = 26$
3 D 5 U =	4 D 2 U =
1 D 7 U =	4 D 6 U =
3 D 2 U =	1 D 4 U =

5. Ordena los números de menor a mayor:


19 43 23

45 18 39

26 41 17

___ ○ ___ ○ ___. ___ ○ ___ ○ ___. ___ ○ ___ ○ ___.

6. Observa las figuras y señala en qué se parecen: (marca con una X)





___ Tamaño
___ Forma
___ Color

___ Tamaño
___ Forma
___ Color

7. Dibujar dentro de la bandeja, un plato circular con un plátano dentro, uno cuadrado debajo de la manzana y uno triangular debajo de la naranja.



8. Señala con una X en qué se diferencian las siguientes figuras:



___ Tamaño
___ Forma
___ Color

___ Tamaño
___ Forma
___ Color